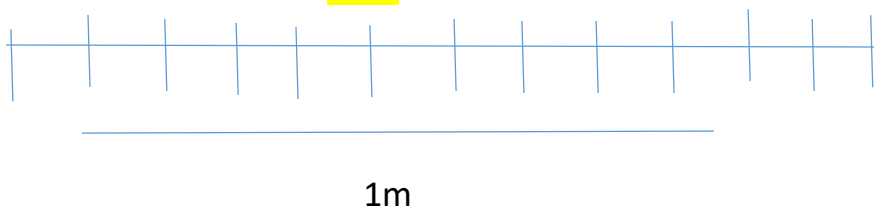


11. Se reparten 2 L de leche, en partes iguales, en cuatro jarras. ¿Cuánta leche tiene cada jarra? $\frac{2}{4}$

12. Analiza y completa la oración.


El tramo azul mide $\frac{1}{12}$ m.




13. Escribe que fracción representa cada figura



$\frac{2}{4}$




$\frac{1}{2}$



$\frac{3}{5}$


14. Representa las siguientes fracciones.



$\frac{3}{6}$



$\frac{2}{4}$



$\frac{4}{8}$